

شاركنا

شاركنا بياناتك التعريفية هُنا ..

الإسم: _____

العمر: _____

المدرسة: _____

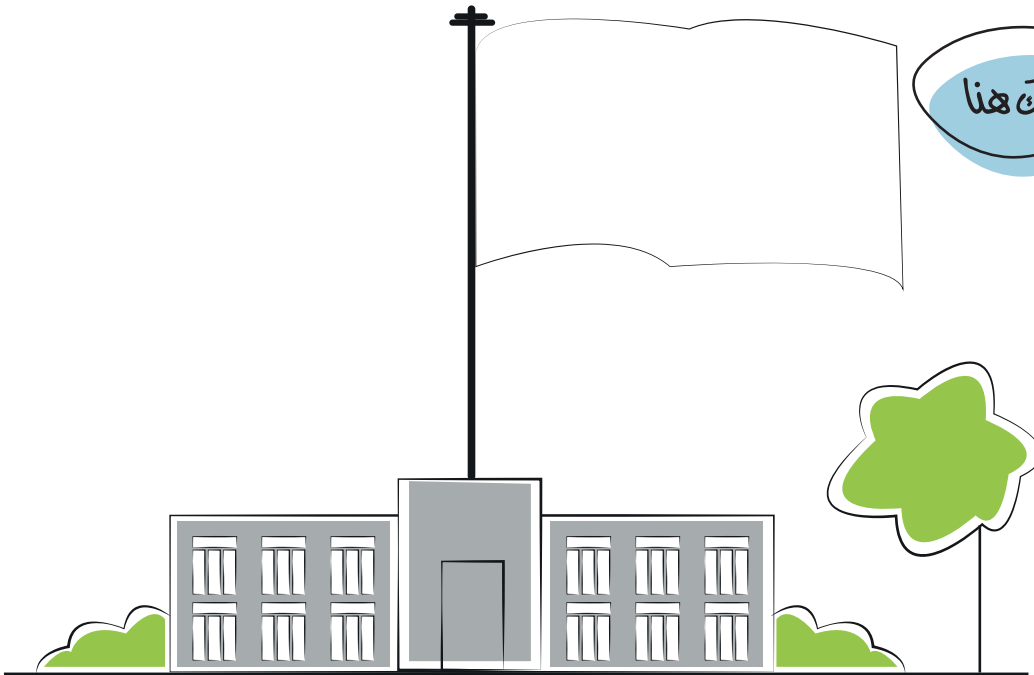
الدولة: _____



gcc-stat

اسل صورتك

اسم علم دولتك هُنا



عواصمنا الجميلة

هيا ،
هيا ،
هيا ،

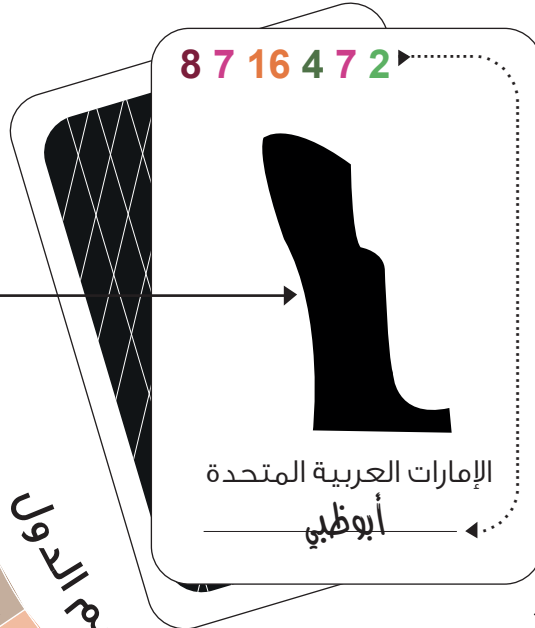
هيا نلعب يا أحمد
لعبة العواصم لتتعرف
على عواصم دول
مجلس التعاون



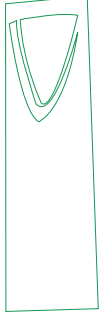
ما رأيك أنت كذلك، يا صديقنا أن تتعرف على عواصم دول مجلس
التعاون مع هذه اللعبة

8	7	16	4	7	2
أ	ب	و	ظ	ب	ي

الصق المعلم المناسب هنا

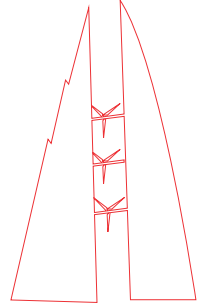


9 1 8 17 1 5




المملكة العربية السعودية

14 15 5 3 15 1 5




مملكة البحرين

12 18 6 15



سلطنة عُمان

11 8 4 13 1 5



دولة الكويت

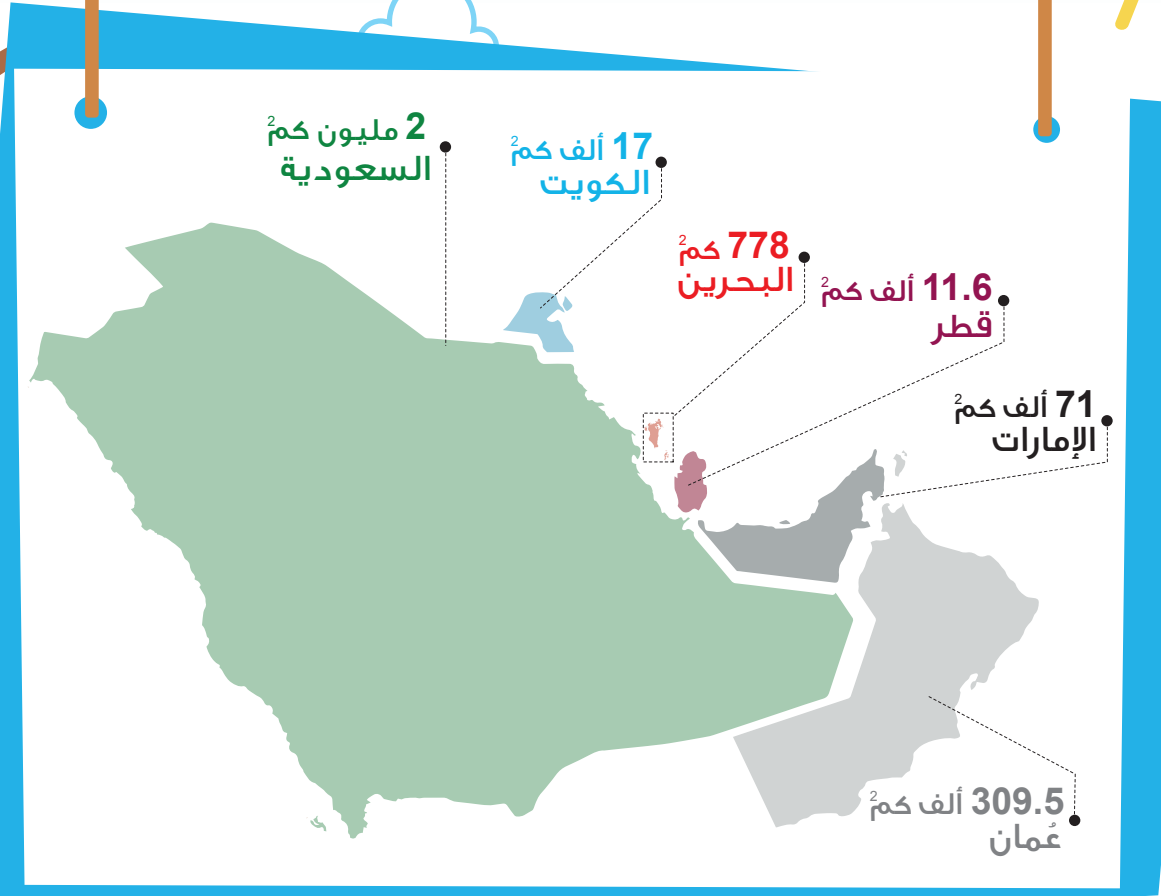
14 19 4 10 1 5



دولة قطر

رتب وقارن معنا

هيا نمرح معًا ونرتب مساحات
دول مجلس التعاون ترتيبًا تنازليًا



الترتيب التنازلي
من الأكبر إلى الأصغر

2.4 مليون كم²
إجمالي مساحة
دول مجلس التعاون

Blank lined paper for writing the ranking of the countries.



الآن؛ سنقارن مساحة دول مجلس التعاون مع بعض
مساحات دول العالم، بوضع إشارتي < و >



دول مجلس التعاون 





2.4 مليون كم²


المكسيك 



2 مليون كم²



الصين 




9.6 مليون كم²

دول مجلس التعاون 




2.4 مليون كم²




دول مجلس التعاون 




2.4 مليون كم²

البرازيل 

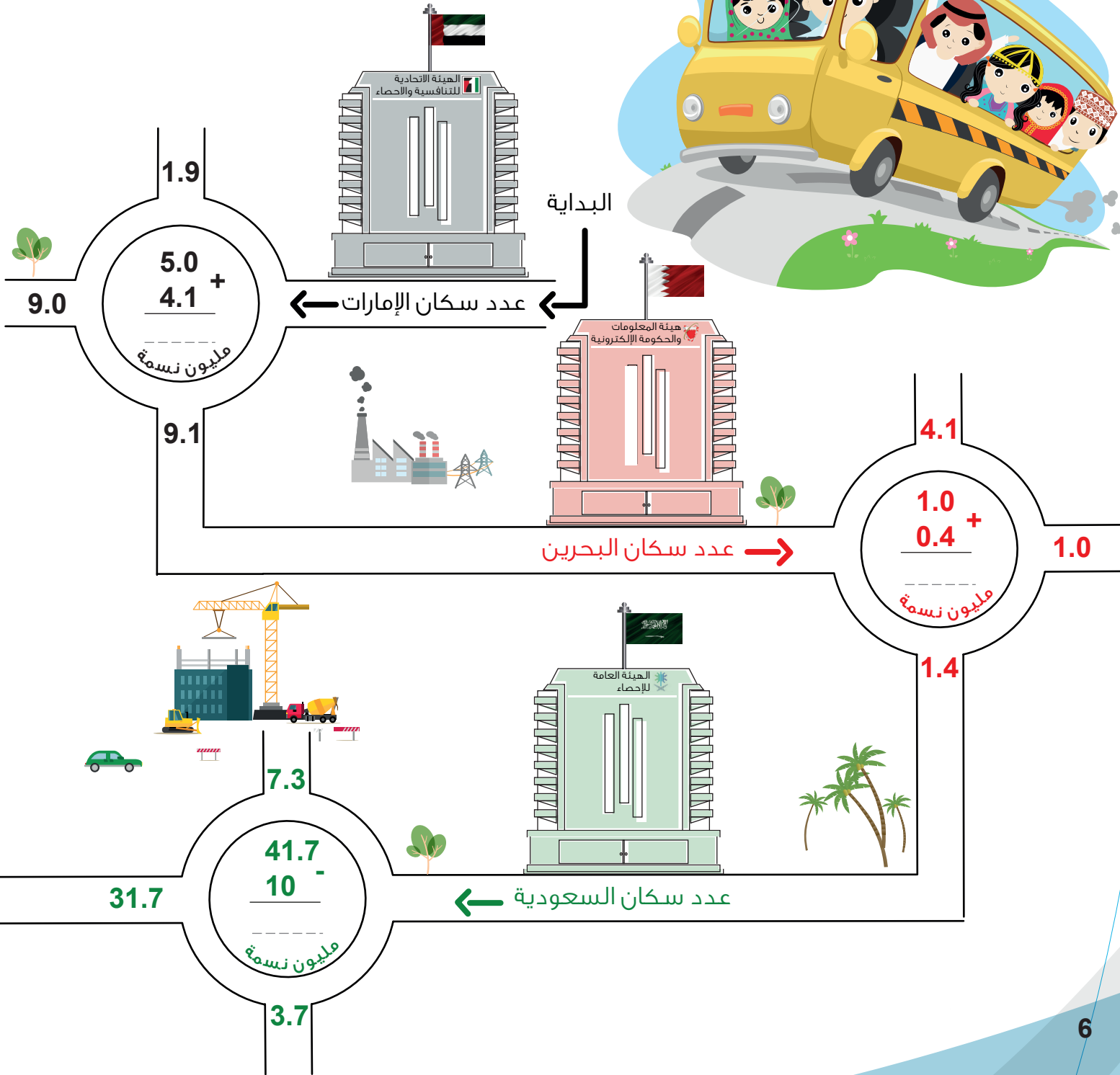


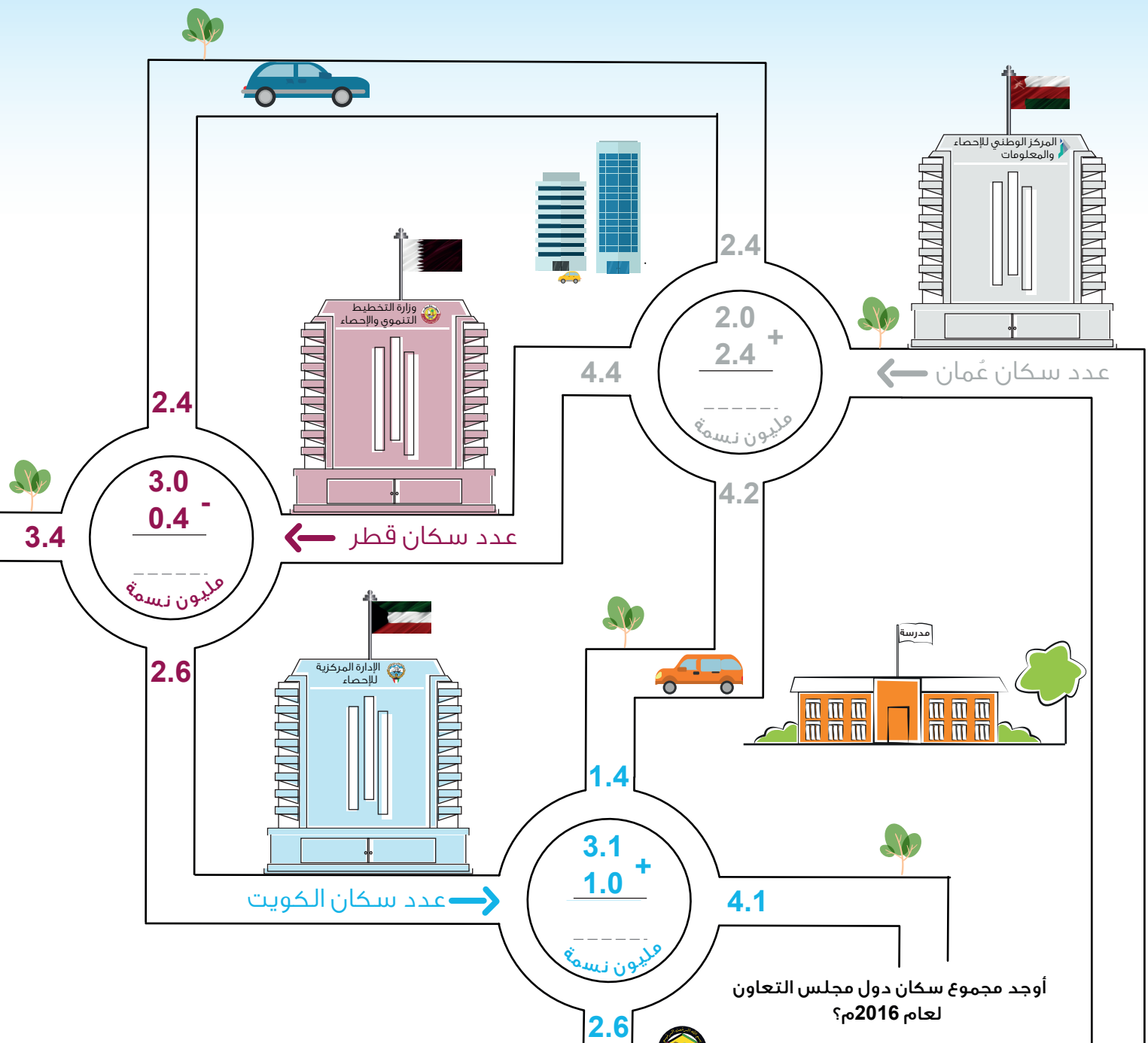
8.5 مليون كم²






حافلة التعداد


ساعد أحمد وسارة وبقية الأطفال للوصول إلى طريق المركز الإحصائي لدول مجلس التعاون لدول الخليج العربية بتلوين الطريق الذي يؤدي إلى الناتج الصحيح لمجموع سكان كل دولة من دول مجلس التعاون لعام 2016م





 =  +  +  +  +  + 

مليون نسمة _____ = _____ + _____ + _____ + _____ + _____ + _____



تعدادنا مستقبلنا

ما رأيكم أن
نبحث عنها في
الإنترنت؟

همم، طالما
تمنكوا من ذلك،
فلا بد من
طريقة!

مم، كيف تمكنوا
من معرفة
عدد كل الأشخاص
في دولنا؟!

هيا بنا



ما رأيكم أن نقوم
أيضا بعمل تعداد
لمنازل أهلنا
وأقاربنا

يسأل
الجميع،
فيجب
الجميع

إنه التعداد
من العد،

لقد عرفنا!

فكرة رائعة





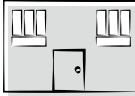



ما رأيك أنت أيضًا يا صديقنا، أن تشاركنا تجربة التعداد، وتقوم
ب " سؤال " عائلتك وأقربائك عن عدد " جميع " أفراد أسرهم؟

نموذج التعداد الأسري

..... المنطقة:

..... الدولة:

اجمع الصفوف	آخرون					
10	3 الجد والجدّة والعاملّة	4 أخوة	2 أخوات	1 أم	1 أب	 بيت سارة
						بيتي
						بيت جاري
						بيت صديقي
						بيت
						اجمع الأعمدة

كم عدد " جميع " الأشخاص في كل الأسر:

سياحتنا البيئية

ما رأيك أن تساعدنا في إيجاد أعداد المحميات المفقودة في كل دولة من دول مجلس التعاون لعام 2016م

السعودية	البحرين	الإمارات
$\begin{array}{r} 3 \\ + \\ \hline 15 \end{array}$	$\begin{array}{r} \square \\ + 5 \\ \hline 6 \end{array}$	$\begin{array}{r} 15 \\ + 28 \\ \hline \square \end{array}$
الكويت	قطر	عمان
$\begin{array}{r} 1 \\ + 11 \\ \hline \square \end{array}$	$\begin{array}{r} 12 \\ + \square \\ \hline 14 \end{array}$	$\begin{array}{r} \square \\ + 13 \\ \hline 18 \end{array}$



المحميات البرية ■ | المحميات البحرية ■

108

إجمالي عدد المحميات البرية والبحرية في مجلس التعاون

المحميات

هي تلك المناطق المخصصة لحماية بعض الحيوانات والكائنات الحية من الانقراض



حان وقت التعرف على بعض الكائنات الحية التي تضمها محمياتنا
الخليجية ؛ و سنقوم بذلك عن طريق إيجاد أسماء هذه الحيوانات
و إضافة الملصق الدال عليهن في المكان المناسب.


ا	ل	ن	م	ر	ا	ل	ع	ر	ب	ي	ح
ل	ل	ف	ث	ث	ل	هـ	ث	ض	ن	ؤ	ن
م	ل	م	ا	ل	ث	ع	ل	ب	غ	ض	ح
هـ	ل	م	ر	ا	ل	س	ل	ح	ف	ا	ة
ا	هـ	ح	ؤ	ج	ث	ف	هـ	س	ث	م	غ
ف	ث	ف	ن	ح	ا	ل	غ	ز	ا	ل	ف
ا	ل	م	ح	ا	ر	ر	ن	ر	ف	س	هـ



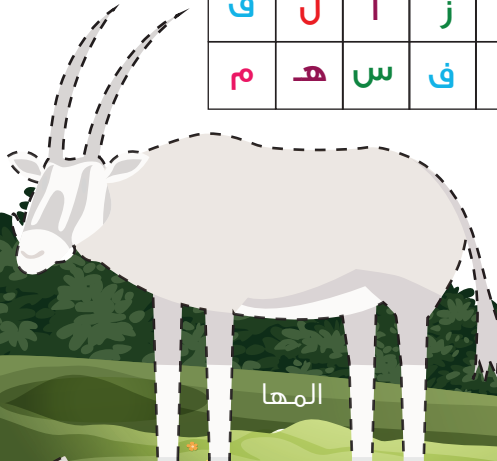
النسر



الغزال



النمر العربي






المها



الثعلب



السلحفاة



المرجان



المحار



لون معنا

