



المركز الإحصائي  
للدول مجلس التعاون لدول الخليج العربية  
GCC-STAT



# أحمد وسارة في إكسبو 2020



عدد خاص  
بمناسبة يوم الطفل  
الخليجي ومشاركة  
المركز في جناح الأمانة  
العامة في إكسبو  
دبي 2020



## إلى أصدقائنا الأعزاء

مرحبا بكم في عالم الإحصاء والمعرفة،  
في هذا العدد سوف نُكمل معكم  
مغامراتنا وسنتعلم الكثير من  
المعلومات عن دولنا في مجلس  
التعاون الخليجي وعن الأرقام والإحصاء  
بطريقة سهلة ومبسطة بالإضافة إلى  
التسالي الممتعة. وكما نأمل أن تجدوا  
الفائدة والمتعة معنا في هذا  
العدد الذي يصدره المركز  
الإحصائي لدول مجلس التعاون  
لدول الخليج العربية.. ولا تنسوا أن  
تشاركوا أصدقائكم هذه المتعة...

[http:// www.gccstat.org](http://www.gccstat.org)

<https://facebook.com/gccstat>

[twitter.com/gccstat](https://twitter.com/gccstat)

[info@gccstat.org](mailto:info@gccstat.org)

ص.ب. 840، الرمز البريدي 133  
سلطنة عمان

P.O.Box:840, PC:133  
Sultanate of Oman

+ 968 24346499

+ 968 24343228



اسمي: \_\_\_\_\_  
عمرى: \_\_\_\_\_  
هوايتى: \_\_\_\_\_  
بلدى: \_\_\_\_\_  
أريد أن أكون في المستقبل: \_\_\_\_\_

## المحتويات

6

إحصاءنا مستقبلاً

8

التمثيل البياني بالمصورات

10

معلومات وتسالي

12

خليجنا والعالم

14

أرقام خليجية

16

معالجة البيانات


18

إكسبو 2020

19

لون معنا

ابحث عن الأشكال  
المفقودة





# إحصاءنا مستقبلا

## الوسيط

رتب الأرقام من الأصغر إلى الأكبر في المكان المناسب



من الأصغر إلى الأكبر



الرقم الذي يقع في المنتصف هو

وهذا ما يُسمى بـ الوسيط

هل تعلمون يا أصدقاء  
أن الرقم الذي يكون في منتصف  
الأرقام المرتبة يسمى بالوسيط

## كيف نطبق الوسيط في حياتنا


دعونا نتعرف على أعمار أحمد وسارة والأصدقاء ومن ثم نجيب على الأسئلة



رتب الأعمار من الأصغر عمرا إلى الأكبر



الوسيط هو

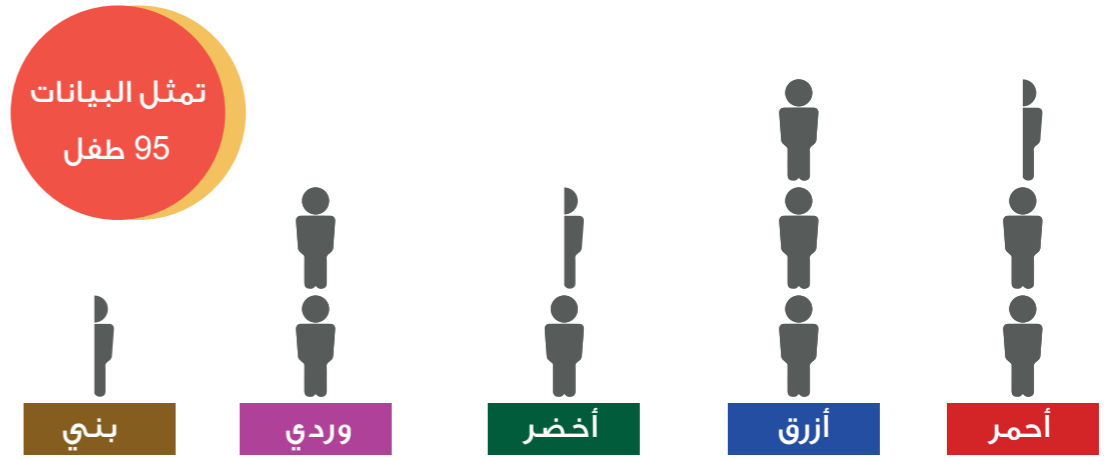




# التمثيل البياني بالمصورات

## رسم البيانات

يمثل رسم البيانات التالية الألوان المفضلة لدى أصدقاء أحمد وسارة



المفتاح | يمثل = 5 أطفال  
المفتاح | يمثل = ..... أطفال

اللون الأكثر تفضيلاً .....  
اللون الأقل تفضيلاً .....

اكتب أعداد الأطفال وفق اللون المفضل في الجدول التالي بشكل مطابق للرسم أعلاه

عدد الأطفال	اللون
25 = 10 + 10 + 5	أحمر
	أزرق
	أخضر
	وردي
	بني

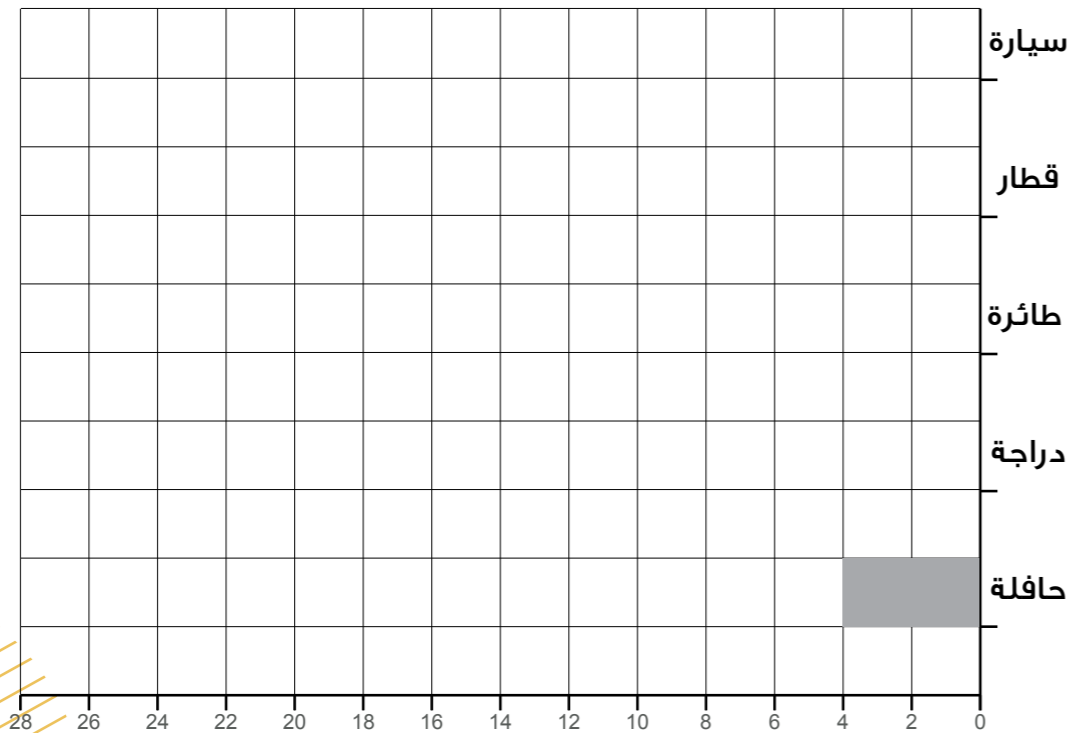
# الرسوم والجدول البيانية والمخططات

اكمل الجدول التكراري لوسائل النقل

مفتاح إشارة العد

الوسيلة	إشارة العد	المجموع
سيارة		10
قطار		23
طائرة		
دراجة		
حافلة		4

اعرض معلومات الجدول التكراري بواسطة التمثيل بالأعمدة



## تحدي الاختلافات

توجد سبعة اختلافات بين الصورتين، هل تستطيع إيجادها؟



## معلومات وتسالي

هل تعلم

**يوم خليجي**

أسبوع المرور الخليجي  
15-11 مارس

**مشاريع خليجية**

مشاركة مجلس  
التعاون في إكسبو  
دبي 2020

**تنافسية**

مجلس التعاون الأول عربياً  
في الاتصالات وتكنولوجيا  
المعلومات

**خليجنا واحد**

**33** ألف مواطن خليجي  
يعمل في دول مجلس  
التعاون

**تفوق خليجي**

مدينة المحرق بمملكة  
البحرين ضمن قائمة المدن  
المبدعة في مجال  
التصميم في 2019م

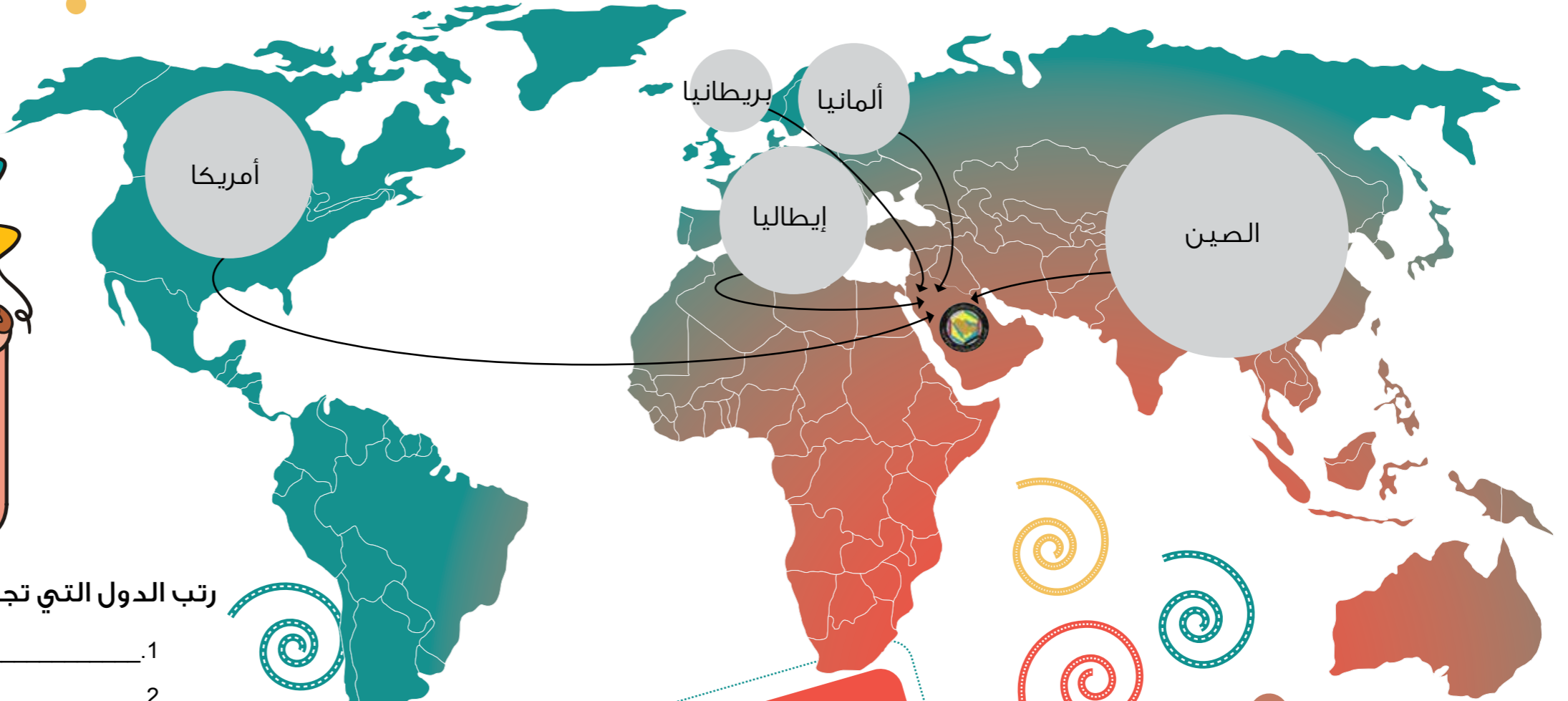


# خليجنا والعالم

## الألعاب

ذهب أحمد وسارة في رحلة جوية ليقوموا باستكشاف أكثر دول العالم التي تجلب الألعاب إلى دولنا الخليجية قم بملصق الأعلام في المكان المناسب وثم أجب على الأسئلة

هل تعلم أن قيمة الألعاب التي تصل إلى دولنا الخليجية 1.5 مليار دولارًا أمريكيًا



رتب الدول التي تجلب منها أكثر كمية من الألعاب فالأقل:

- \_\_\_\_\_ .1
- \_\_\_\_\_ .2
- \_\_\_\_\_ .3
- \_\_\_\_\_ .4
- \_\_\_\_\_ .5

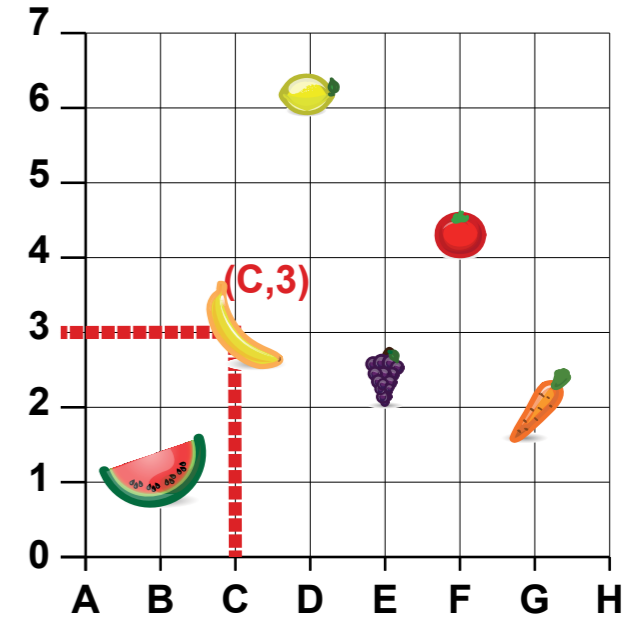
ملاحظة:  
تذكرو كلما كان  
حجم الدائرة أكبر  
كلما كانت كمية الألعاب أكبر



# أرقام خليجية

صحتنا

دعونا نتعرف على بعض الفواكة والخضروات التي تنتجها دولنا الخليجية وكميتها، استعن بالمثال الأول واكمل الجدول التالي بإضافة الإحداثيات أو الرسم




العناصر	الأحداثيات
عنب	(B,1)
جزر	(C,3)
موز	(D,6)
طماطم	(E,2)

ماهي أكثر المنتجات التي تنتجها دولنا الخليجية؟



استعن بالشكل ثم اجب عن السؤال  
مليون طن



## كيف واجهنا كوفيد-19

هيا يا أصدقاء نعبّر المتاهة معًا ونتعلم بعض من المعلومات والنصائح



شاركنا ماذا فعلت أنت

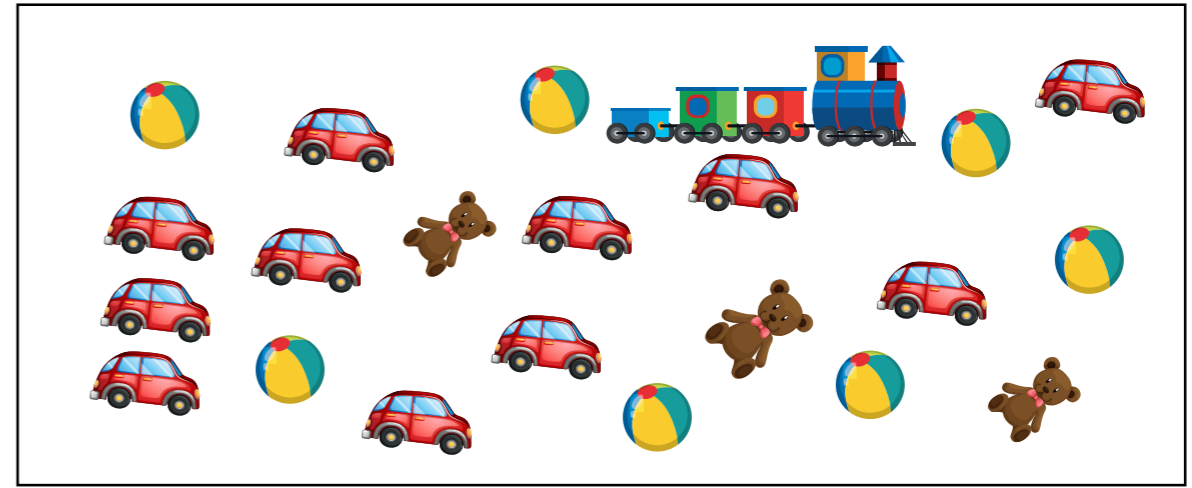
حتى نحافظ على صحتنا يجب علينا أن نتناول الخضار والفواكة الغنية بالفيتامينات التي تساعدنا على تقوية مناعتنا..

# معالجة البيانات





## الألعاب

# التمثيل البياني

اخرج أحمد وسارة مجموعة من ألعاب يظهر المربع بعض منها



اكتب في الجدول عدد كل منها

7	
	
	
	

ضع دائرة على أكثر عدد منها



ضع دائرة على أقل عدد منها



صمم مخطط تمثيل بياني بالأعمدة لإظهار البيانات في الجدول

- أضف عنواناً للمخطط


- ضع عناوين للمحاور العمودية والأفقية







لون معنا



إكسبو 2020  
دبي، الإمارات العربية المتحدة  
DUBAI, UNITED ARAB EMIRATES

إكسبو 2020



قامت سارة بالتقاط صور  
أجنحة دول مجلس التعاون  
في إكسبو دبي 2020 صل الصورة مع اسم الدولة



الإمارات



عُمان



الكويت



السعودية




البحرين



قطر





إكسبو 2020  
دبي، الإمارات العربية المتحدة  
DUBAI, UNITED ARAB EMIRATES

EXPO 2020

Color with us




Sarah took pictures of the GCC pavilions at Expo 2020 Dubai. Match the pictures with the names of the countries.



18



Emirates




Oman




Kuwait



Saudi Arabia



Bahrain



Qatar

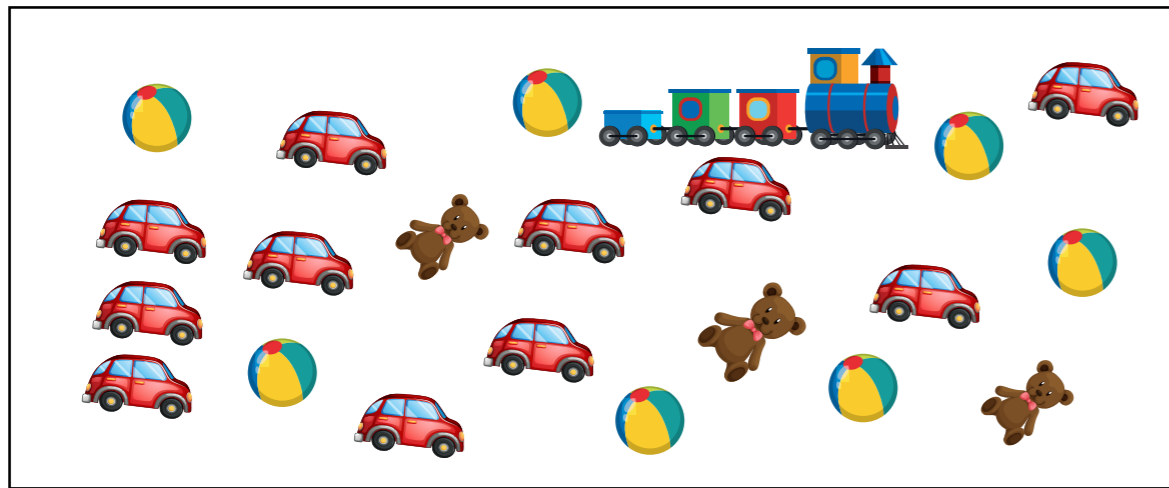
19





# Data processing

## Games

Ahmed and Sarah brought out some toys, some of which appear in the box. Write in the table the number of the toys.



Write in the table the number of toys

	7
	
	
	

# Graphical representation



Circle the highest number of toys




Circle the lowest number of toys



Design a graph chart with columns to show the data in the table

- Add a title to the chart
- Add titles to the vertical and horizontal axis



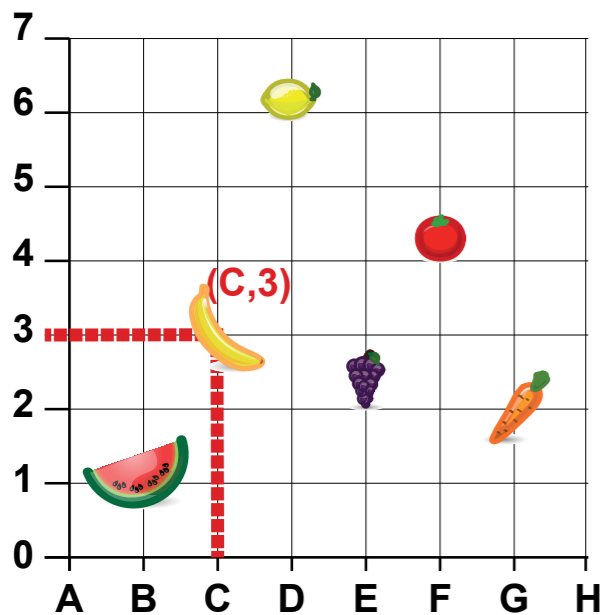


# Gulf numbers

## Our health

## How to face COVID-19

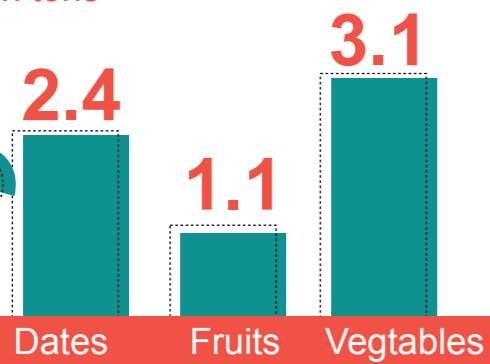
Let us get to know some of the fruits and vegetables that our GCC countries produce and the quantity. Use the first example and complete the following table by adding coordinates or drawing.



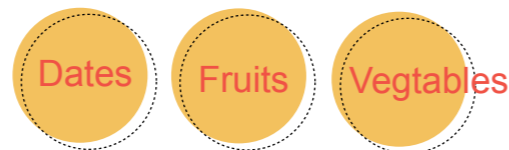
Elements	Coordinates
	(B,1)
Grape	
Carrots	
Banana	(C,3)
Tomatoes	
	(D,6)

Use the figure and then answer the question

Million tons

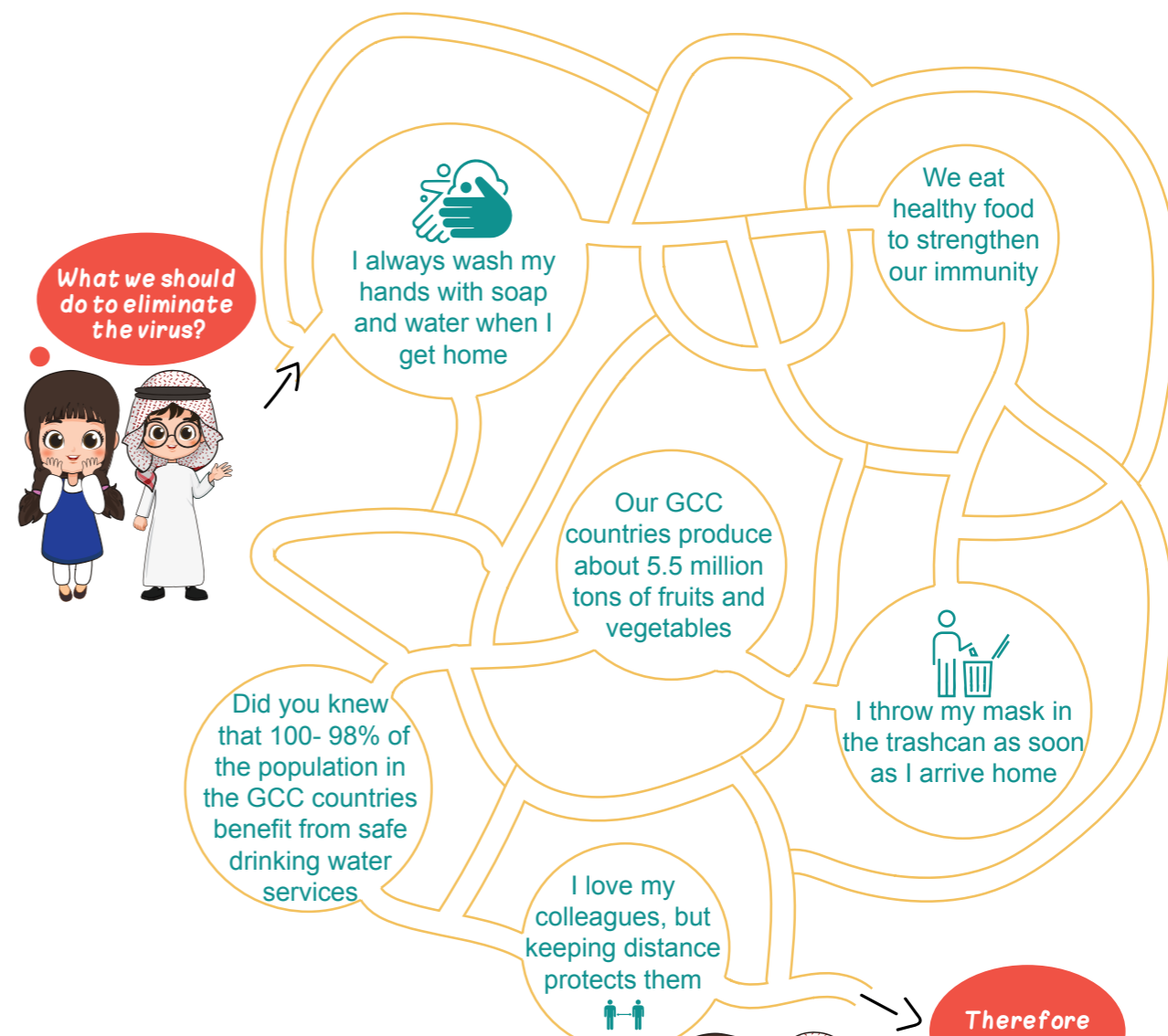


What are the most produced products by our GCC countries?



To stay healthy, we have to eat vegetables and fruits high in vitamins to help us strengthen our immunity.

Come on friends; let us go through the maze together to learn some tips and advice



Share what you did.

Therefore, we are



# GCC and the world

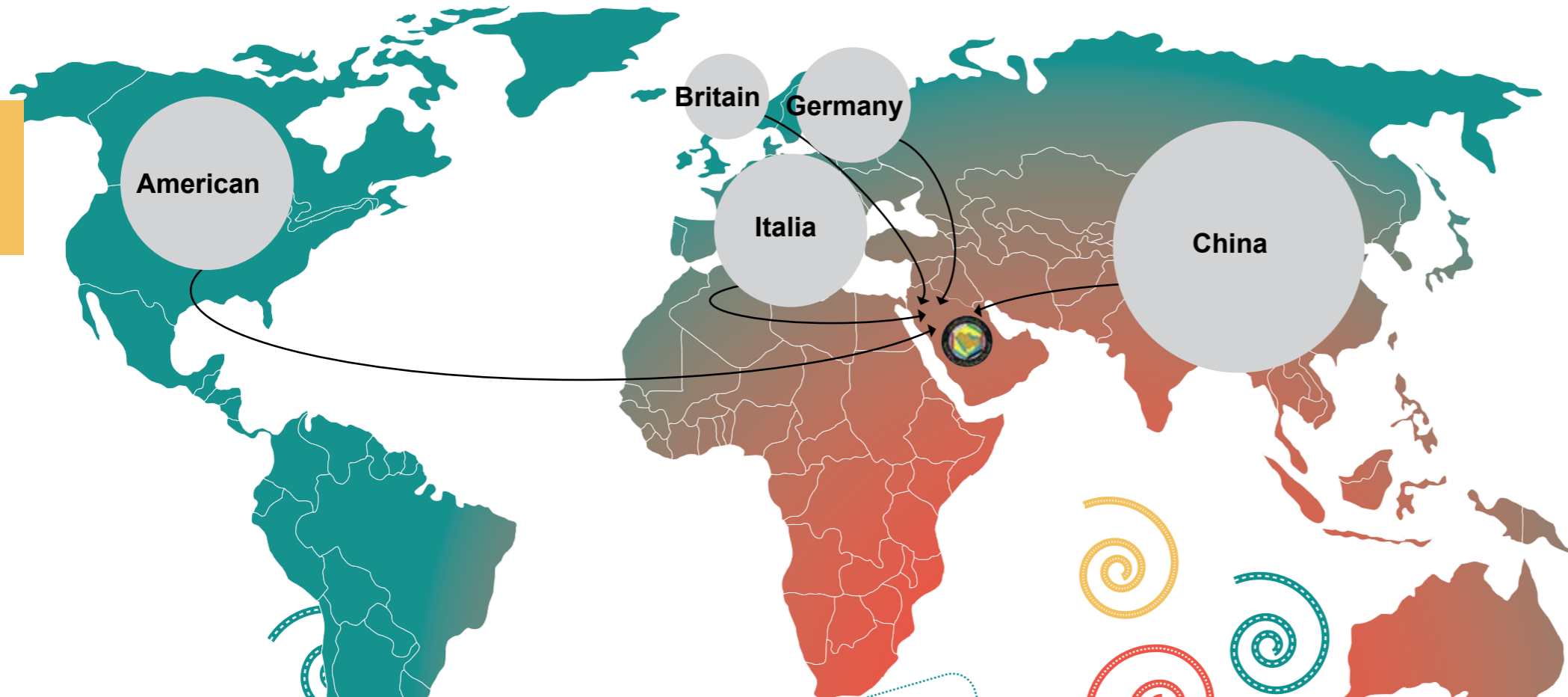
## Games

Ahmed and Sarah went on a flight to explore the most countries in the world that import toys to the GCC countries

Stick the flags in the appropriate place and then answer the questions

Did you know that the value of games imported to our GCC countries is 1.5 billion USD?

12



13



Rank the country by the highest importer of toys to the lowest

- \_\_\_\_\_
- \_\_\_\_\_
- \_\_\_\_\_
- \_\_\_\_\_
- \_\_\_\_\_

**Note:**  
Remember the bigger the circle, the greater the amount of toys.

# Information and entertainment

## Did u know facts

### Gulf day

Gulf traffic week  
11-15 March

### Competitive

The GCC is the first in Arab world in the field of communications and information technology

### Gulf projects

The participation of GCC in Expo Dubai 2020

### One gulf

33 thousands gulf citizens working in other Member States

### Gulf excellence

Muharraq City, Kingdom of Bahrain on the list of creative cities in design for 2019

## Difference challenge

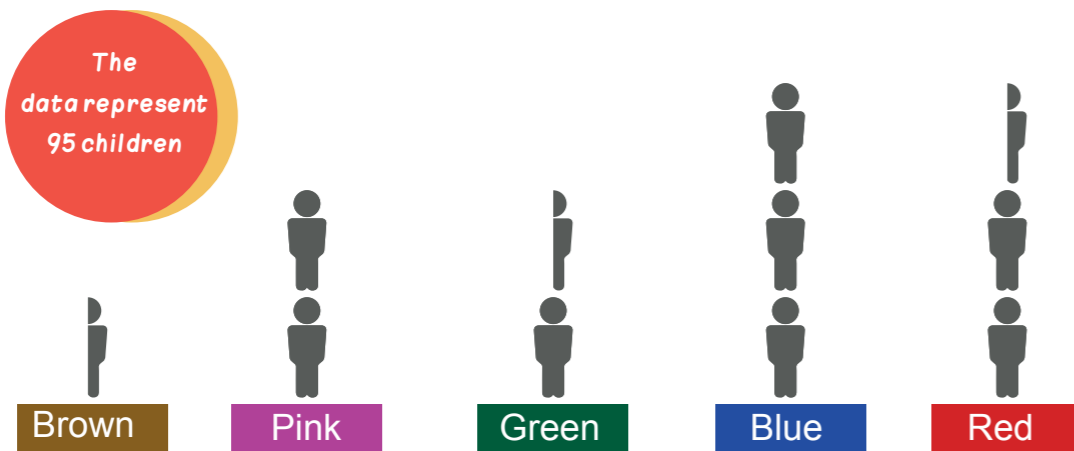
Can you find the seven differences in the two pictures?



# Graphical representation

## Data graphic

The graph below represents the favorite colors of Ahmed and Sarah's friends:



Most Preferred Color ..... This key represents **5** Children  
 Least Preferred Color ..... This key represents ..... Children

Write the numbers of children according to the preferred color in the following table, in accordance with the drawing above



Color	Number of children
Red	$10+10+5=25$
Blue	
Green	
Pink	
Brown	

# Data graphs, tables and charts

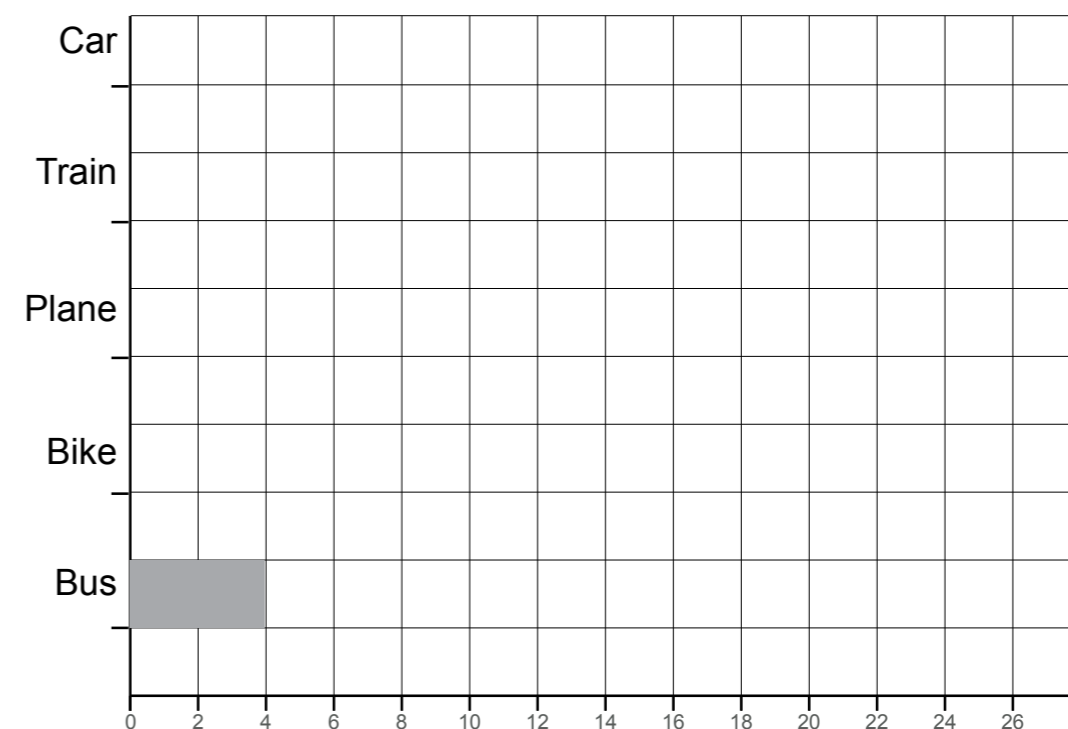


Complete the frequency table of the mode of transport

Mode of transport	Count Signal	Total
Car		10
Train		23
Plane		
Bike		
Bus		4

Count Signal Key

Display the frequency table information by column representations





Sort the numbers from the largest to the smallest in the appropriate place.



From the smallest to the largest →




The number in the middle is

This is called Median

Did you know that the number in the middle of a sorted numbers is referred to as Median

How do we apply the median in our life?

Let us find out the ages of Ahmed, Sarah, and some other friends, and then answer the questions:



Sort the ages from youngest to oldest →



The median is \_\_\_\_\_





Name: \_\_\_\_\_

Age: \_\_\_\_\_

Hobby: \_\_\_\_\_

I would like to be in the future:

\_\_\_\_\_  
\_\_\_\_\_

## Content:

<i>Our statistics, our future</i>	6
<i>Graphical representation</i>	8
<i>Information and entertainment</i>	10
<i>GCC and the world</i>	12
<i>Gulf Numbers</i>	14
<i>Data processing</i>	16
<i>EXPO 2020</i>	18
<i>Color with us</i>	19

*Find the missing items*





### Our dearest friends

Welcome to the world of statistics and knowledge. In this release, we will continue our adventures and we will learn a lot of information about our GCC countries and the numbers and statistics in an easy and simple way, in addition to the fun games. We also hope that you will enjoy browsing this release issued by the GCC-STAT. Do not forget to share it with your friends...



[http:// www.gccstat.org](http://www.gccstat.org)

<https://facebook.com/gccstat>

[twitter.com/gccstat](https://twitter.com/gccstat)

[info@gccstat.org](mailto:info@gccstat.org)

ص.ب. 840 - الرمز البريدي 133  
سلطنة عمان

P.O.Box:840, PC:133  
Sultanate of Oman

+ 968 24346499 :

+ 968 24343228 :





المركز الإحصائي  
للدول مجلس التعاون لدول الخليج العربية  
GCC-STAT



# Ahmed and Sarah at Expo 2020

Special  
release for the  
Gulf Children's Day  
and the participation  
of GCC-STAT in the  
General Secretariat  
pavilion at Expo  
Dubai



EXPO  
2020  
DUBAI  
UAE