




المركز الإحصائي
لدول مجلس التعاون لدول الخليج العربية
GCC-STAT



أحمد وسارة في عالم الإحصاء

المركز الإحصائي لدول مجلس التعاون لدول
الخليج العربية هو المرجع الإحصائي الرسمي
الوحيد لمجلس التعاون ومصدر بياناته



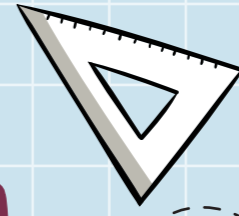
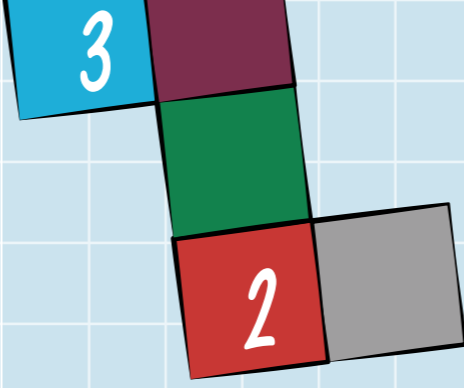


شاركنا بياناتك التعريفية هنا..

الاسم: _____

العمر: _____

الصف: _____



إلى أصدقائنا الصغار

مرحباً بكم في العدد الثالث من كتاب أحمد وسارة
في عالم الإحصاء


في هذا العدد سوف نرسم ونتعلم معاً
هل أنتم مستعدون لبدأ..



المحتويات

- 1 متبئاتنا الخليجية
- 2 متاحفنا المتنوعة
- 3 طلاب المدارس
- 4 المربع الصغير
- 6 كأس الخليج
- 8 ثروتنا الحيوانية
- 10 ثروتنا السمكية
- 11 لون معنا
- 12





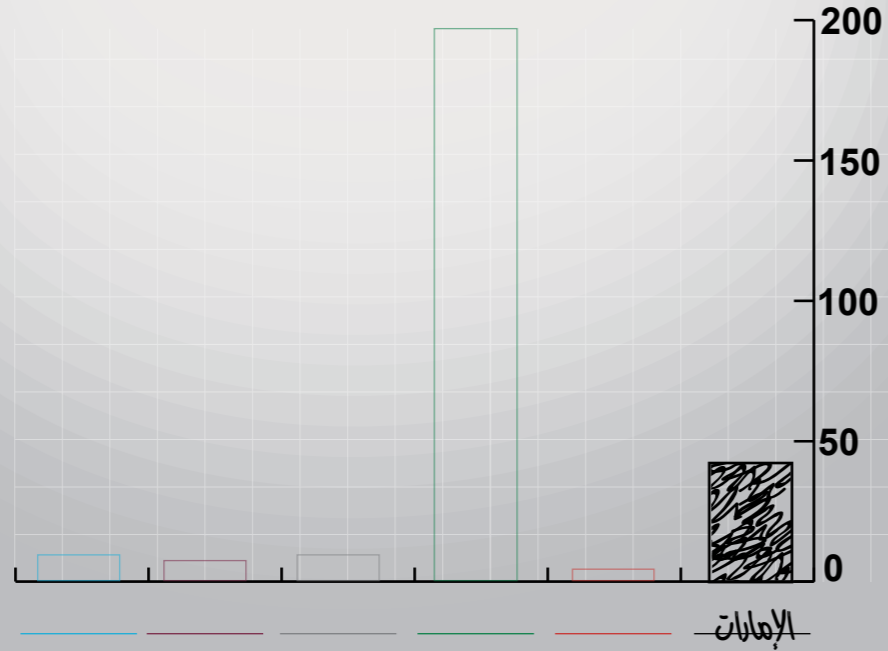
متاحفنا المتنوعة



إرسم لنا الأعمدة التي تمثل عدد المتاحف في دول مجلس التعاون ولونها باللون المناسب



العنوان: _____



بيانات 2016م

مكتباتنا الخليجية

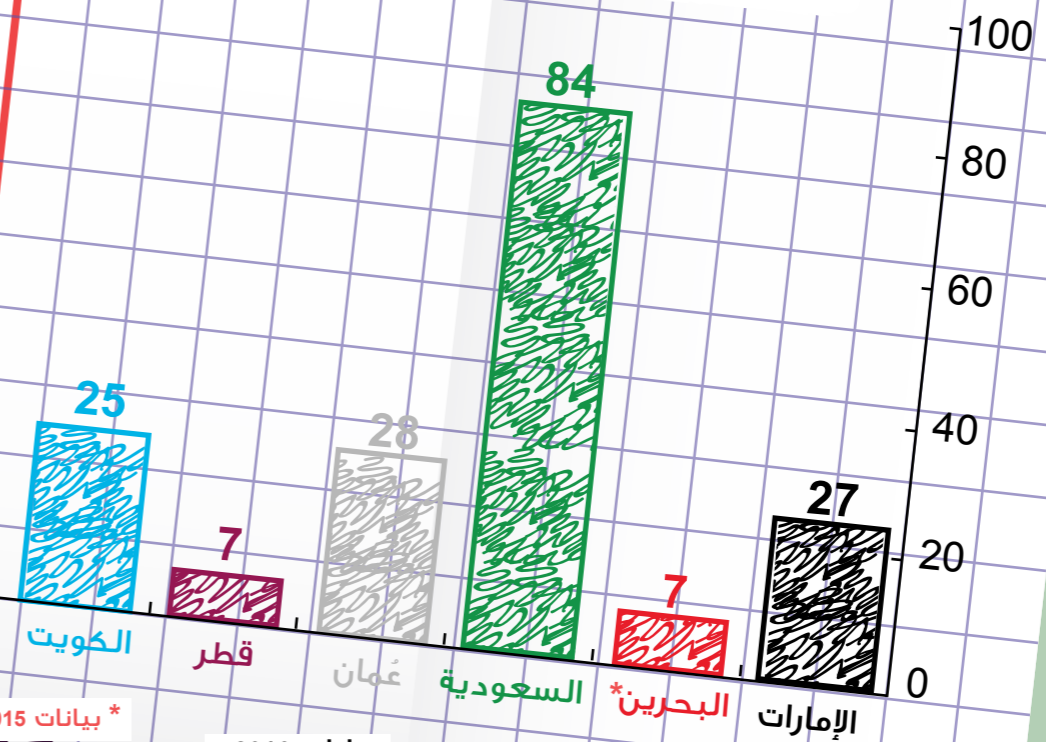


أكتب في الجدول عدد المكتبات الموجودة في كل دولة من دول مجلس التعاون من الشكل الموضح أسفل الصفحة

الإمارات	البحرين	السعودية	عُمان	قطر	الكويت

كم عدد الكتب التي لديك؟

عدد المكتبات الموجودة في دول مجلس التعاون



* بيانات 2015م

بيانات 2016م



المربع الصغير

إلعب مع أحمد وسارة بالمربع الصغير..

1. اصنع المربع الصغير

2. إرم المربع الصغير 12 مرة

3. لَوّن المستطيل الذي تحصل عليه في الجدول المقابل

أدعُ أحد أصدقائك
للعب معك

في أي دولة يوجد هذا المعلم



كم مرة حصلت على  ؟

كم مرة حصلت على  ؟

العنوان:					




طلاب المدارس

كم عدد طلاب صفك؟



عدد المدارس




عدد الطلاب 2017م

السعودية	البحرين*	الإمارات
6,344 ألف	202 ألف	875 ألف
الكويت	قطر	عمان
610 ألف	248 ألف	616 ألف

8,895 ألف
عدد الطلاب في مجلس
التعاون 2017م

ساعد أحمد وسارة في حل الأرقام المتقاطعة في الجدول المقابل



عمودي

- 5 عدد المدارس 2016م (ألف)
- 6 عدد الطلاب في عمان (ألف)
- 7 عدد الطلاب في البحرين (ألف)

أفقي

- 1 عدد الطلاب في الإمارات (ألف)
- 2 عدد الطلاب في الكويت (ألف)
- 3 عدد الطلاب في السعودية (ألف)
- 4 عدد الطلاب في قطر (ألف)

كأس الخليج العربي لكرة القدم

قم بإلباس أحمد قميص المنتخب المناسب بحسب عدد بطولات كل منتخب
(بالرجوع إلى صفحة الملصقات)



أخبرنا عن منتخبك المفضل؟

.....
.....

معلومة إحصائية

أتعلم يا صديقي أن العدد الأكثر تكراراً في
عالم الإحصاء يسمى بالمنوال

مثال:



المنتخب العماني
فاز مرتين



المنتخب الإماراتي
فاز مرتين

العدد 2

هو العدد الأكثر تكراراً
للفوز بكأس الخليج العربي

المنتخب الكويتي
فاز 10 مرات

المنتخب القطري
فاز 3 مرات

المنتخب العماني
فاز مرتين

المنتخب السعودي
فاز 3 مرات

المنتخب البحريني
لم يحالفه الحظ

المنتخب الإماراتي
فاز مرتين



ثروتنا السمكية

تعالو يا أصدقاء نبحر معا عبر المتاهة حتى نستكشف عدد الأسماك التي تم اصطيادها في دول مجلس التعاون ثم أجب على الأسئلة

ماهي الدولة التي اصطادت أكبر عدد من الأسماك في عام 2016م، ياترى؟

البداية

رتب الدول التي تصطاد أكبر عدد من الأسماك فالأقل؟

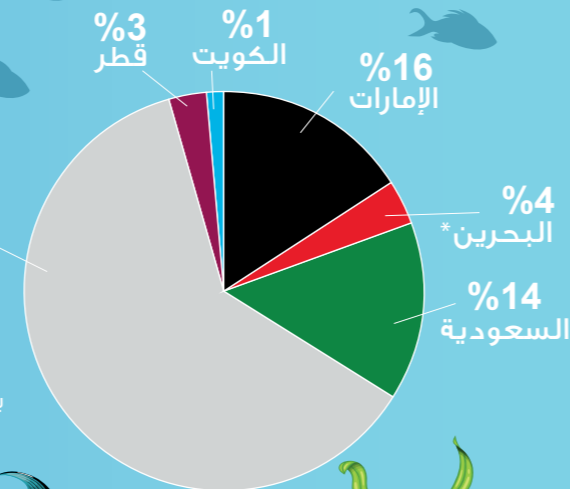
- 1.
- 2.
- 3.
- 4.
- 5.
- 6.



* بيانات 2015م

61%
عمان

بيانات 2016م



ثروتنا الحيوانية


تعرف على أعداد الحيوانات في مجلس التعاون المذكورة أسفل الصفحة ثم أكتب عددها

1

9000

13

8



الإبل

مليون



الماعز

مليون



الضأن

مليون



الأبقار

ألف

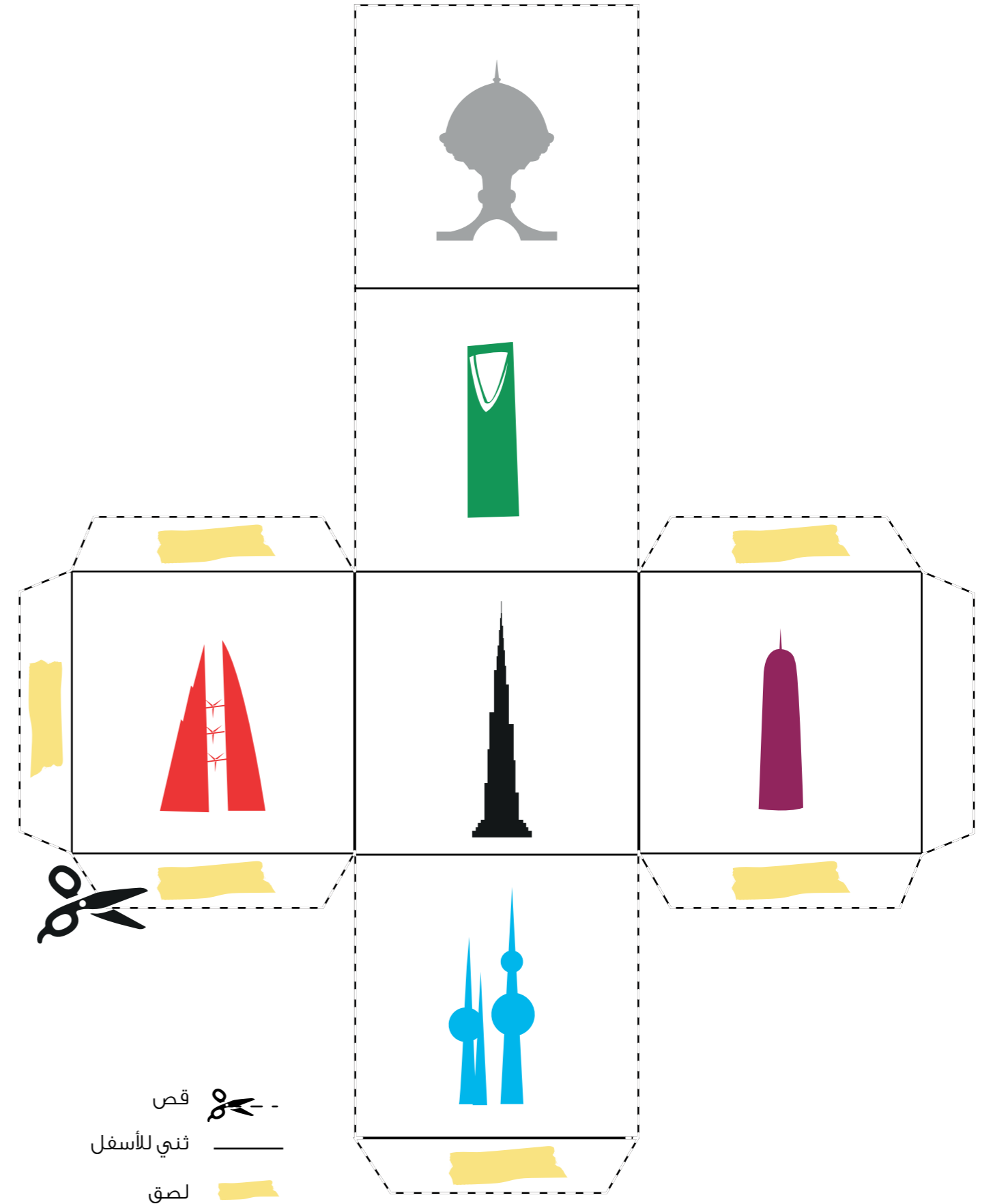
بيانات 2016م

كأس الخليج العربي لكرة القدم

لون معنا



اصنع المربع الصغير



قص

ثني للأسفل

لصق

العنوان:





[http:// www.gccstat.org](http://www.gccstat.org)

<https://facebook.com/gccstat>

twitter.com/gccstat

info@gccstat.org

ص.ب: 840، الرمز البريدي 133
سلطنة عمان

P.O.Box:840, PC:133
Sultanate of Oman

+ 968 24346499 :

+ 968 24343228 :



خلاف العد

انتظرونا في العدد القادم،
إلى اللقاء

